

ВСЕРОССИЙСКАЯ ОЛИМПИАДА ШКОЛЬНИКОВ ПО ОБЗР
2024–2025 уч. г. ШКОЛЬНЫЙ ЭТАП 5–6 классы

Тестовые задания

Определите один правильный ответ

- Мухомяк Софья*
- 1 Мигание красных надверных огней поезда метро означает
- 1) «посадка запрещена»
 - ②) «высадка запрещена»
 - 3) «посадка разрешена»
 - 4) «высадка разрешена»
- 2 Минимальная безопасная толщина льда при переходе через водоём одного человека должна составлять не менее
- 1) 12 см
 - 2) 7 см
 - 3) 5 см
 - ④) 15 см
- 3 Если Вы встанете лицом к Полярной звезде, то справа будет направление на
- 1) запад
 - ②) восток
 - 3) юг
 - 4) север
- 4 День пожарной охраны России отмечается
- 1) 27 декабря
 - 2) 30 апреля
 - ③) 4 октября
 - 4) 1 марта
- 5 Дезинсекция представляет собой
- 1) обезвреживание (нейтрализация, разбавление) или удаление опасных химических веществ с поверхностей
 - 2) удаление (снижение) радиоактивного загрязнения поверхностей
 - ③) удаление (снижение) бактериального загрязнения поверхностей
 - 4) удаление членистоногих с поверхностей
- 6 Верны ли утверждения?
Газопылезащитный респиратор предназначен для защиты органов дыхания от
- А. радиоактивных аэрозолей
 - Б. микробиологических аэрозолей, передающихся воздушно-капельным путём при эпидемиях и пандемиях
- 1) верно только А
 - 2) верно только Б
 - ③) верны оба суждения
 - 4) оба суждения неверны

7 Если Вы обнаружили бесхозный предмет в вагоне поезда метро, то необходимо незамедлительно связаться с

- 1) полицейским
- 2) машинистом
- 3) дежурным по станции
- 4) сотрудником МЧС

8 Верны ли следующие суждения?

Школьник правильно сидит за рабочим столом, если

А. он сидит глубоко на стуле, ровно держит корпус и голову, ступни опираются на пол, угол сгибания в коленных и голеностопных суставах составляет около 90°

Б. расстояние от его глаз до поверхности стола равняется длине предплечья от локтя до конца пальцев

- 1) верно только А
- 2) верно только Б
- 3) верны оба суждения
- 4) оба суждения неверны

4 балла

9 Верны ли следующие суждения?

Кровоостанавливающий жгут наложен правильно, если ниже места наложения жгута

А. пульс отсутствует

Б. конечность бледная

- 1) верно только А
- 2) верно только Б
- 3) верны оба суждения
- 4) оба суждения неверны

10 Верны ли следующие суждения?

Бинтовая повязка накладывается на конечности, как правило,

А. слева направо (по отношению к бинтующему)

Б. от периферии к центру

- 1) верно только А
- 2) верно только Б
- 3) верны оба суждения
- 4) оба суждения неверны

Определите два правильных ответа
За каждый правильный ответ начисляется **4 балла**

1 Какой сигнальный цвет и какую геометрическую форму имеют знаки пожарной безопасности?

- 1) синий
- 2) оранжевый
- 3) квадрат
- 4) красный
- 5) круг

4

4 балла

2 Для тушения небольшого бытового возгорания можно воспользоваться

- 1) поваренной солью
- 2) мукой
- 3) плотной синтетической тканью
- 4) стиральным порошком
- 5) какао-порошком

4

4 балла

3 Какие растения являются ядовитыми?

- 1) актинидия острая
- 2) белокопытник широкий
- 3) анис
- 4) борщевик
- 5) вороний глаз

4

4 балла

4 К опасным геологическим явлениям и процессам относятся

- 1) сель
- 2) обвал
- 3) лавовый поток
- 4) затор
- 5) цунами

4

4 балла

5 По каким номерам в Российской Федерации возможно вызвать экстренные службы с сотового телефона?

- 1) 911
- 2) 112
- 3) 985
- 4) 413
- 5) 113

8

8 баллов

6 К средствам индивидуальной защиты органов дыхания относятся

- 1) камера защитная детская
- 2) щиток защитный лицевой
- 3) респиратор
- 4) скафандр
- 5) гидроизолирующий костюм

4

4 балла

7 День солидарности в борьбе с терроризмом стал памятной датой после событий, произошедших в школе № 1 города Беслана

- 1) 1–3 сентября
- 2) 2004 года
- 3) 23–26 октября
- 4) 14–19 июня
- 5) 1995 года

4 Басина

8 Какие действия запрещены при оказании первой помощи пострадавшему с термическим ожогом при наличии целых и вскрывшихся пузырей?

- 1) вскрывать пузыри
- 2) накладывать нетугую повязку
- 3) смазывать ожоговую рану маслами, жирами
- 4) прикладывать поверх повязки холод
- 5) поить пострадавшего

8 Басинов

9 Какие признаки характерны для ушиба конечности?

- 1) отёк
- 2) деформация
- 3) кровоизлияние
- 4) кровотечение наружное
- 5) костный хруст

8 Басинов






10 Как правильно проверить наличие сознания у пострадавшего?

- 1) слегка похлопать по щекам
- 2) обратиться с вопросом, например «что с Вами?»
- 3) аккуратно потрясти за плечи
- 4) надавить на точку, находящуюся между носом и верхней губой
- 5) растереть мочки ушей

4 Басина






Задание 3

Установите соответствие между изображением топографического знака и его наименованием.

И		Редколесье
		Овраг
И		Кустарники
И		Луг
И		Озеро. Проходимое болото

Задание 2

Каждый визуальный сигнал «поверхность – воздух», применяемый при поисково-спасательных операциях, имеет определённое значение. Установите соответствие между изображением сигнала и его значением.

0		«Нет, или отрицательно»
4		«Ничего не обнаружено, продолжаем поиски»
0		«Неспособны двигаться, требуется медицинская помощь»
4		«Двигаемся в этом направлении»
4		«Получены сведения, что воздушное судно находится в этом направлении»
		«Требуется помощь»
		«Требуется оружие и боеприпасы»

Теоретические задания

Задание 1

Установите соответствие между изображением дорожного знака и его наименованием.

4		«Опасный поворот»
4		«Выброс гравия»
		«Скользкая дорога»
		«Опасные повороты»
4		«Пересечение с велосипедной дорожкой»
		«Прочие опасности»
		«Жилая зона»
		«Начало населённого пункта»
		«Пешеходная дорожка»
4		«Пешеходный переход»