


ВСЕРОССИЙСКАЯ ОЛИМПИАДА ШКОЛЬНИКОВ
ПО ОБЗР 2024–2025 уч. г. ШКОЛЬНЫЙ ЭТАП

7–8 классы

Лотковой Алены

Тестовые задания

Определите один правильный ответ

- 2
- 1 Изображённый знак в вагоне метро означает
- ✓ 1) «не прислоняться к дверям»
 - 2) «не входить в двери»
 - 3) «не останавливаться у дверей»
 - 4) «не подходить к дверям»
- 
- 2
- 2 Минимальная безопасная толщина льда для сооружения катка должна составлять не менее
- 1) 7 см
 - 2) 30 см
 - 3) 9 см
 - ✓ 4) 12 см
- 2
- 3 Отлогая сторона муравейника указывает направление на
- 1) восток
 - 2) запад
 - 3) север
 - ✓ 4) юг
- 2
- 4 День спасателя Российской Федерации отмечается
- ✓ 1) 27 декабря
 - 2) 4 октября
 - 3) 30 апреля
 - 4) 1 марта
- 2
- 5 Дезинфекция средств индивидуальной защиты – это
- 1) обезвреживание (нейтрализация, разбавление) или удаление опасных химических веществ со средств индивидуальной защиты
 - 2) удаление (снижение) радиоактивного загрязнения со средств индивидуальной защиты и их комплектующих изделий
 - ✓ 3) удаление (снижение) бактериального загрязнения со средств индивидуальной защиты и их комплектующих изделий
 - 4) удаление членистоногих со средств индивидуальной защиты и их комплектующих изделий

6 Верны ли утверждения?

При выборе СИЗОД необходимо учитывать

- А. возможный уровень концентрации ОХВ в воздухе
- Б. время защитного действия СИЗОД

- 1) верно только А
- 2) верно только Б
- ✓ 3) верны оба суждения
- 4) оба суждения неверны

7 Рекомендуемая зона удаления при обнаружении гранаты Ф-1 составляет

- 1) 50 м
- ✓ 2) 200 м
- 3) 250 м
- 4) 55 м

8 Какой витамин образуется в коже под действием солнечного излучения?

- 1) В₆
- 2) С
- 3) К
- ✓ 4) D

9 Оказание первой помощи необходимо начинать с

- ✓ 1) вызова скорой медицинской помощи
- 2) определения признаков жизни у пострадавшего
- 3) оценки обстановки и обеспечения безопасных условий для её оказания
- 4) выяснения обстоятельств травмы

10 Какая повязка используется для остановки кровотечения?

- 1) укрепляющая
- 2) иммобилизирующая
- ✓ 3) давящая
- 4) герметизирующая

Определите два правильных ответа

За каждый правильный ответ начисляется 2 балла

1 Какой сигнальный цвет и какую геометрическую форму имеют предупреждающие знаки безопасности?

- 4
- 1) синий
 - ✓ 2) треугольник
 - 3) квадрат
 - ✓ 4) жёлтый
 - 5) круг с поперечной полосой

2 Для тушения небольшого бытового возгорания можно воспользоваться

- 2
- 1) мукой
 - 2) содой
 - ✓ 3) плотной шерстяной тканью
 - 4) какао-порошком
 - ✓ 5) плотной синтетической тканью

3 Какие растения являются ядовитыми?

- 4
- ✓ 1) ландыш
 - 2) актинидия острая
 - 3) анис
 - 4) бенинказа щетинисто-волосистая
 - ✓ 5) болиголов крапчатый

4 К опасным гидрологическим явлениям и процессам относятся

- 2
- 1) сель
 - 2) оползень
 - 3) лава
 - ✓ 4) землетрясение
 - ✓ 5) цунами

5 К характеристикам, по которым оценивается землетрясение, относят

- 4
- ✓ 1) магнитуду
 - 2) продолжительность
 - ✓ 3) интенсивность
 - 4) распространённость
 - 5) частоту

6 К средствам индивидуальной защиты кожи относятся

- 2
- 1) защитное дерматологическое средство
 - 2) камера защитная детская
 - ✓ 3) изолирующий противогаз
 - 4) щиток защитный лицевой
 - ✓ 5) противошумные наушники

7 **Какие организации в соответствии с законодательством Российской Федерации признаны террористическими и экстремистскими?**

- 4
- ✓ 1) «База»
 - 2) «Аванпост»
 - ✓ 3) «Правый сектор»
 - 4) «Ата йорты – Отчий дом»
 - 5) «STS»

8 **Какие состояния характеризуют малоподвижный образ жизни?**

- 4
- 1) гиперактивность
 - 2) гипотрофия
 - ✓ 3) гипокинезия
 - 4) гиперкинезия
 - ✓ 5) гиподинамия

9 **Укажите номера для вызова скорой медицинской помощи с сотового телефона**

- 4
- 1) 03
 - 2) 102
 - ✓ 3) 112
 - ✓ 4) 103
 - 5) 04






10 **Какие признаки характерны для ожога второй степени?**

- 1) отёк, покраснение
- 2) наличие пузырей с прозрачным содержимым
- 3) отсутствие чувствительности в месте повреждения
- 4) обугливание кожи и подкожной клетчатки
- 5) обугливание мягких тканей и частично костей

Теоретические задания

Задание 1

Установите соответствие между изображением дорожного знака и его наименованием.

2		«Стоянка велосипедов запрещена»
2		«Стоянка запрещена»
2		«Велосипедная дорожка или полоса»
2		«Движение на велосипедах запрещено»
2		«Движение запрещено»
		«Конец велосипедной дорожки или полосы»
		«Въезд запрещён»
		«Место отдыха»
		«Кемпинг»
		«Остановка запрещена»

108

Задание 2

Каждый визуальный сигнал «поверхность – воздух», применяемый при поисково-спасательных операциях, имеет определённое значение. Установите соответствие между изображением сигнала и его значением.

У	«Нужны пища и вода»
□	«Всё в порядке»
К	«Нужны сигнальная лампа с батареей и радиостанцией»
Δ	«Укажите направление следования»
Ф	«Да, или положительно»
	«Требуются карта и компас»
	«Здесь можно безопасно совершить посадку»

Задание 3

В целях своевременного информирования населения о возникновении угрозы террористического акта и организации деятельности по противодействию его совершению на отдельных территориях РФ могут устанавливаться уровни террористической опасности.

А. Выберите цветовое обозначение уровней террористической опасности и расположите их в порядке возрастания (от минимального к максимальному).

А. «фиолетовый»

Б. «красный»

В. «жёлтый»

Г. «зелёный»

Д. «оранжевый»

Е. «синий»

В ответ запишите последовательность букв, соответствующих уровням террористической опасности (от минимального к максимальному) без пробелов и других разделителей.

Образец записи ответа: ЕДГ или ДГВЕ

Ответ: БДВБАЕГ

Б. Установите соответствие между выбранными цветовыми обозначениями уровней террористической опасности и условиями их установления.

2

«фиолетовый»	
«красный»	
«жёлтый»	
«зелёный»	
«оранжевый»	
«синий»	
	Повышенный – при наличии требующей подтверждения информации о реальной возможности совершения террористического акта
	Высокий – при наличии подтверждённой информации о реальной возможности совершения террористического акта
	Критический – при наличии информации о совершённом террористическом акте либо о совершении действий, создающих непосредственную угрозу террористического акта

Задание 4-5

А. Перелом – нарушение целостности кости. Признаки перелома делятся на две группы: достоверные и косвенные.

Вариант 1. Выберите достоверные признаки перелома.

Вариант 2. Выберите косвенные признаки перелома.

Признаки перелома

1. Деформация в месте повреждения
- ✓ 2. Костный хруст
3. Отёк в месте повреждения
- ✓ 4. Укорочение (удлинение) пострадавшей части конечности
- ✓ 5. Кровоизлияние в месте повреждения
- ✓ 6. Нарушение функции конечности
- ✓ 7. Боль в месте повреждения
8. Патологическая подвижность

Б. При переломе(-ах) какой(-их) кости(-ей) выполняется иммобилизация, изображённая на рисунке?

- 1) шеи
- 2) рёбер
- ✓ 3) плечевой кости
- 4) костей кисти

2



Травматика 69+69 теория

Общая результативность 100,0 = 66,5%

Суринов П.Е. - [подпись]
Захарова Н.А. - [подпись]